


6.Sınıf Fen Bilimleri Denemesi (1. 2. ve 3. Ünite)


Bursluluk sorularına hazırlanan öğrenciler için ideal

Deneme **indir**

Adı Soyadı:.....
Sınıf No:.....

6.Sınıf
Fen Bilimleri

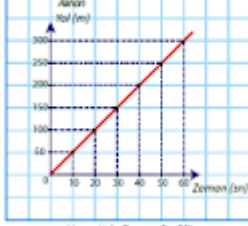
**DENEME-2**

1. 

Şekildeki top üzerine etki eden kuvvetler verilmiştir. Topun dengede kalabilmesi için uygulanması gereken kuvvetin yönü ve büyüklüğü aşağıdaki seçeneklerden hangisinde verilmiştir?

A) 3 N Batı B) 3 N Doğu
C) 7 N Doğu D) 7 N Batı

2. Dengelenmiş ve dengelenmemiş kuvvetler hakkında verilen bilgilerden hangisi doğrudur?

5. 

Bir araca ait alınan yol - zaman grafiği verilmiştir.

I. Araç sabit hızla hareket etmektedir.
II. Araç dengelenmiş kuvvetlerin etkisindedir.

Cevaplar

| 6.Sınıf 2.Deneme Cevaplar | | | |
|---------------------------|------|------|------|
| 1-B | 6-C | 11-D | 16-C |
| 2-D | 7-D | 12-C | 17-B |
| 3-A | 8-C | 13-D | 18-A |
| 4-A | 9-D | 14-B | 19-B |
| 5-A | 10-D | 15-C | 20-C |